

QUESTIONARIO TIPO 1

CENTRO RECLUTAMENTO GUARDIA DI FINANZA

ISTRUZIONI PER LO SVOLGIMENTO DELLA PROVA

AVVERTENZE

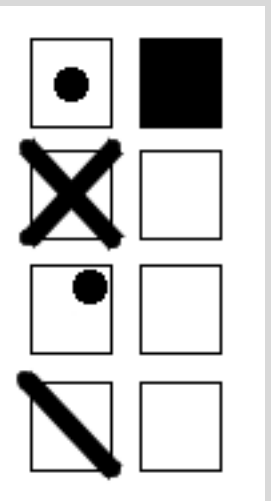
- ❑ LA BUSTA CONTENENTE IL LIBRETTO TEST NON DEVE ESSERE APERTA PRIMA DELL'ORDINE DI APERTURA;
- ❑ IL LIBRETTO TEST DEVE ESSERE RESTITUITO INTEGRO al termine della prova;
- ❑ SUL "FOGLIO RISPOSTE" sono riportate 120 caselle, numerate progressivamente da 1 a 120.
- ❑ LE RISPOSTE vanno fornite annerendo unicamente sul "foglio risposte" uno dei quadratini della riga numericamente corrispondente alla relativa domanda del questionario dal nr. 1 al nr. 100.

Conduzione della prova

- ❑ LEGGERE IL QUESITO SUL LIBRETTO TEST;
- ❑ FORNIRE LA RISPOSTA SULL'APPOSITO "FOGLIO RISPOSTE" ANNERENDO IN MANIERA CORRETTA, COSI' COME RIPORTATO NELL'ESEMPIO SUCCESSIVO, CON LA PENNA NERA, IL RIQUADRO che contiene la lettera corrispondente alla risposta ritenuta esatta.

Attenzione a non uscire dal quadratino – Esempio:

MODO CORRETTO DI ANNERIRE



MODO ERRATO DI ANNERIRE








NOTE:

Tenere presente che:









- ❑ NON SONO AMMESSE CORREZIONI di alcun genere;
- ❑ IL "FOGLIO RISPOSTE" NON DEVE ESSERE PIEGATO O ROVINATO;
- ❑ COSTITUISCE ERRORE GENERANDO PUNTEGGIO UGUALE A 0 (ZERO):
 - LA RISPOSTA SBAGLIATA;
 - LA RISPOSTA MANCANTE;
 - L'INDICAZIONE DI PIU' RISPOSTE ALLA STESSA DOMANDA.

QUESTIONARIO TIPO 1








QUESTIONARIO TIPO 1

	1) È possibile convertire i file di Microsoft Access in formato "mdb" nel nuovo formato "accdb"?	a) Sì, basta aprirli con una nuova versione di Access e salvarli nel nuovo formato.	b) Sì, utilizzando un apposito programma di conversione.	c) No.	d) Sì, basta cambiare l'estensione del file.
	2) Quale dei seguenti componenti non fa parte dell'hardware?	a) Microsoft Edge.	b) Mouse.	c) Stampante.	d) Microprocessore.
	3) Cos'è una Cartella o Directory?	a) Una zona del file system, contenente files ed altre directory (o sottodirectory). Nei sistemi operativi come Windows, viene rappresentata dall'icona di una cartella.	b) Un file che contiene altri files.	c) Un programma eseguibile con un doppio click del tasto sinistro del mouse.	d) Un'immagine che rappresenta una cartella esclusivamente Desktop di Windows.
	4) A cosa corrisponde in ambito informatico l'acronimo BIOS?	a) Basic input output startup.	b) Boot initial operating startup.	c) Bootstrap initial operating system.	d) Basic input output system.
	5) Quale dei seguenti componenti non è hardware in un computer?	a) Il microprocessore.	b) I driver per le stampanti.	c) La scheda madre.	d) La tastiera.
	6) In Windows come si crea un collegamento?	a) Aprendo la cartella che contiene l'oggetto e trascinandolo nel cestino.	b) Selezionando l'icona dell'oggetto nella finestra.	c) Selezionando il comando «Crea collegamento» nel menù Visualizza.	d) Selezionando la voce «crea collegamento» dalla voce Nuovo del menù contestuale ottenuto facendo click con il tasto destro nello spazio libero di una cartella o sul desktop.
	7) Quale tra i seguenti software è un browser?	a) Mozilla Firefox.	b) Microsoft Powerpoint.	c) Mozilla Thunderbird.	d) Microsoft Outlook.








QUESTIONARIO TIPO 1

	8) Per eliminare un file in Windows si deve:	a) Selezionare l'icona del File e premere il tasto "Backspace".	b) Cliccare sul tasto di destra sulla sua icona e selezionare dal menù a tendina il comando Taglia.	c) Cliccare con il tasto di destro del mouse sulla sua icona e selezionare dal menù a tendina il comando Elimina.	d) Trascina l'icona del Cestino sull'icona del file.
	9) Il programma WinRAR è usato principalmente per:	a) comprimere file o directory perché occupino meno spazio.	b) verificare che un file non contenga virus.	c) spezzare un file grande per poterlo salvare su più floppy disk.	d) comprimere esclusivamente file Word perché occupino meno spazio.
	10) Usando Windows con quale combinazione di tre tasti si può attivare la finestra che consente tra l'altro di aprire Gestione Attività?	a) CTRL + ALT + TAB.	b) CTRL + ALT + DEL.	c) CTRL + SHIFT + DEL.	d) SHIFT + TAB + DEL.
	11) Ai sensi dell'art. 1 del d.lgs. 7 marzo 2005, n. 82, lettera V-bis, come si chiama il sistema di comunicazione in grado di attestare l'invio e l'avvenuta consegna di un messaggio di posta elettronica e di fornire ricevute opponibili ai terzi?	a) Messaggio non univoco.	b) Modello non unico.	c) Posta elettronica ordinaria.	d) Posta elettronica certificata.
	12) Nel novembre 2022 il Consiglio dei Ministri, del Governo Meloni, ha approvato il decreto-legge 11 novembre 2022, n. 173 che introduce disposizioni urgenti in materia di riordino delle attribuzioni dei Ministeri. Quale denominazione ha assunto il Ministero dell'istruzione?	a) Ministero della performance e merito.	b) Ministero dell'istruzione e merito.	c) Ministero della cultura.	d) Ministero della pubblica istruzione.
	13) A norma dell'art. 31, comma 2 della Costituzione la Repubblica protegge l'infanzia?	a) Sì, favorendo gli istituti necessari a tale scopo.	b) Sì, attraverso i tribunali per i minorenni.	c) Sì, ma solo con misure sociali.	d) Sì attraverso apposite e dettagliate disposizioni della Costituzione.
	14) Si completi correttamente l'art. 93 della Costituzione: «Il Presidente del Consiglio dei ministri e i ministri, prima di assumere le funzioni, prestano giuramento _____».	a) Dinanzi al Parlamento riunito in seduta comune.	b) Prima nelle mani del Presidente della Repubblica e successivamente dinanzi al Parlamento riunito in seduta comune.	c) Nelle mani del Presidente della Corte costituzionale.	d) Nelle mani del Presidente della Repubblica.
	15) Con il d.p.r. 21 ottobre 2022, sono stati nominati i ministri del Governo Meloni. L'on. Giancarlo Giorgetti è stato nominato ministro:	a) Dello sviluppo economico.	b) Delle politiche agricole alimentari e forestali (oggi agricoltura, sovranità alimentare e foreste).	c) Delle infrastrutture e della mobilità sostenibili (oggi infrastrutture e trasporti).	d) Dell'economia e delle finanze:






QUESTIONARIO TIPO 1

	16) In quale articolo della Costituzione è sancito il principio che i sindacati registrati hanno personalità giuridica, se registrati?	a) 17.	b) 39.	c) 40.	d) 49.
	17) A norma dell'art. 104 della Costituzione, come sono scelti i componenti del Consiglio superiore della magistratura eletti dal Parlamento in seduta comune?	a) Tra i professori ordinari di università in materie giuridiche ed avvocati dopo sette anni di esercizio.	b) Tra i professori ordinari di università in materie giuridiche ed avvocati dopo venticinque anni di esercizio.	c) Tra i professori ordinari di università in materie giuridiche ed avvocati dopo dieci anni di esercizio.	d) Tra i professori ordinari di università in materie giuridiche ed avvocati dopo quindici anni di esercizio.
	18) A norma dell'art. 123 della Costituzione entro quale termine, decorrente dalla sua pubblicazione, lo Statuto regionale può essere sottoposto a referendum popolare?	a) Sei mesi.	b) Due mesi.	c) Tre mesi.	d) Quattro mesi.
	19) Dispone l'art. 123 della Costituzione che ciascuna Regione ha uno statuto che, in armonia con la Costituzione, ne determina la forma di governo e i principi fondamentali di organizzazione e funzionamento. In quali casi lo Statuto regionale può essere sottoposto a referendum popolare?	a) Qualora entro due mesi dalla sua pubblicazione ne faccia richiesta un centocinquantesimo degli elettori della Regione o un quinto dei componenti la Giunta regionale.	b) Qualora entro tre mesi dalla sua pubblicazione ne faccia richiesta un cinquantesimo degli elettori della Regione o un quinto dei componenti il Consiglio regionale.	c) Qualora entro tre mesi dalla sua pubblicazione ne faccia richiesta un centesimo degli elettori della Regione o un decimo dei componenti il Consiglio regionale.	d) Qualora entro due mesi dalla sua pubblicazione ne faccia richiesta un centesimo degli elettori della Regione o un decimo dei componenti la Giunta regionale.
	20) In base all'art. 43 della Costituzione, può la legge riservare originariamente o trasferire, mediante espropriazione, a comunità di lavoratori o di utenti determinate imprese o categorie di imprese, che si riferiscano a fonti di energia?	a) No, mai.	b) Sì, anche senza il fine di utilità generale e senza indennizzo.	c) Sì, ai fini di utilità generale e salvo indennizzo.	d) Sì, sempre senza alcun limite essendo totale la discrezione dello Stato.
	21) Alla fine della seconda guerra mondiale, nonostante la quasi totale distruzione delle risorse belliche, il Giappone resistette, capitolando soltanto dopo l'esplosione, autorizzata dal presidente statunitense Truman, della bomba atomica. Su quali città?	a) Hiroshima e Nagasaki.	b) Osaka e Yokohama.	c) Fukuoka e Sapporo.	d) Kobe e Nagoya.
	22) Per Calvino che ruolo rivestiva l'autorità civile?	a) Le istituzioni dovevano essere al servizio di una società rigidamente morale e religiosa; era ammesso il diritto di ribellione contro le istituzioni che si allontanavano dalla legge di Dio	b) Le istituzioni dovevano al contrario della religione condurre un'opera di sensibilizzazione alla lotta contro i più forti	c) Lo stesso ruolo che rivestiva per Lutero	d) Le istituzioni non potevano essere al servizio di una società religiosa perché il loro operato non poteva condurre alla legge di Dio










QUESTIONARIO TIPO 1

	23) Quando Luigi Napoleone Bonaparte venne proclamato imperatore?	a) Nel febbraio 1890	b) Nel gennaio 1864	c) Nel dicembre 1852	d) Nel giugno 1865
	24) Quale altra legge del governo di Crispi ebbe un significato innovativo?	a) La legge sull'immigrazione	b) La legge sull'ordinamento comunale e provinciale	c) La legge sugli appalti	d) La legge sui tributi
	25) Dopo la pace provvisoria del 1580 perché la guerra riprese nel 1584?	a) A causa della cosiddetta "notte di San Bartolomeo" del 1572, fra il 23 e 24 agosto, quando bande di cattolici si scatenarono massacrando diverse migliaia di ugonotti	b) Poiché il clima successivo alla riforma e alla controriforma fu caratterizzato da un rigido contrapporsi di fedi che determinò un forte clima di intolleranza e persecuzioni	c) Perché l'editto di Nantes aveva favorito solamente i cattolici	d) Perché dopo la morte del quarto e ultimo figlio di Caterina ci fu una crisi dinastica e l'unico erede al trono era fra i capi del partito ugonotto e per evitare che salisse al trono il capo della lega di Guisa si alleò con gli spagnoli di Filippo II
	26) Quando, nell'Italia fascista, venne inaugurata l'autarchia?	a) Nel 1924	b) Nel 1990	c) Nel 1936	d) Nel 1944
	27) Oltre all'Italia, quali stati attivarono un movimento di resistenza contro l'invasione tedesca?	a) Solo l'Inghilterra	b) Francia, Polonia, Unione Sovietica e Jugoslavia	c) Solo l'Etiopia	d) Francia e Inghilterra
	28) Cosa vi era alla base delle guerre di religione in Francia?	a) La lotta per la successione al trono, inasprita dalla disputa religiosa tra cattolici e ugonotti	b) Il massacro avvenuto nella Notte di San Bartolomeo	c) La convinzione che le Sacre Scritture avessero contenuti profani	d) Il matrimonio tra il figlio di Borbone, Enrico e la figlia di Caterina, Margherita
	29) Quali erano gli obiettivi del programma risorgimentale di Mazzini?	a) Una strategia gradualista e cospirativa	b) La creazione di una federazione tra stati attraverso l'iniziativa della dinastia piemontese dei Savoia	c) La creazione di una federazione fra stati cristiani con la protezione del Papa	d) Una rivoluzione nazionale al fine di ottenere l'indipendenza dall'Austria, l'unità nazionale e la repubblica









QUESTIONARIO TIPO 1

	30) Cosa era il People's Party?	a) Un movimento politico sorto contro l'introduzione delle tariffe doganali protezionistiche introdotte nel 1890 negli Stati Uniti	b) La festa dei giovani imprenditori americani	c) Una nota festa americana iniziata dopo l'industrializzazione	d) Un movimento politico favorevole alla dottrina liberale
	31) Individuare l'alternativa che meglio sintetizza il contenuto del testo proposto in base ai seguenti criteri; - chiarezza: la rielaborazione esprime chiaramente e completamente l'argomentazione principale del testo; - essenzialità: la rielaborazione evita ridondanze e argomentazioni secondarie o subordinate e non riporta informazioni aggiuntive o diverse da quelle contenute nel testo; - somiglianza: la rielaborazione contiene tutti i principali concetti espressi nel testo. "Nel 1960, la popolazione mondiale raggiunse i tre miliardi. Da allora il ritmo di crescita è andato accelerandosi: siamo cresciuti di un miliardo all'incirca ogni 13 anni fino a toccare la cifra di 7 miliardi alla fine del 2011. Una delle conseguenze di tale incremento demografico è che le necessità umane hanno oltrepassato le capacità di supporto degli ecosistemi, siano foreste, riserve ittiche, pascoli, acquiferi o suoli. Una volta che la domanda supera la capacità di questi sistemi naturali, la parte in eccesso può essere soddisfatta solo erodendo la base della risorsa stessa."	a) Le necessità umane hanno oltrepassato le capacità di supporto degli ecosistemi: una volta che la domanda supera la capacità di questi sistemi naturali, la parte in eccesso può essere soddisfatta solo erodendo la base della risorsa stessa.	b) Verso la fine del XXI secolo, la popolazione mondiale raggiunse i tre miliardi. Da quel momento in poi il ritmo di crescita è aumentato sempre di più fino ad arrivare alla cifra di 7 miliardi nel 2011. La conseguenza principale di questo incremento demografico è data dalle necessità umane che hanno superato sempre più le capacità di supporto degli ecosistemi.	c) Nel 1960, la popolazione mondiale raggiunse i tre milioni. Da allora il ritmo di crescita è andato accelerandosi fino a toccare la cifra di 7 miliardi nel XXI secolo.	d) Verso la fine del XX secolo, la popolazione mondiale raggiunse i tre miliardi. Da quel momento in poi il ritmo di crescita è aumentato sempre di più fino ad arrivare alla cifra di 7 miliardi nel 2011. La conseguenza principale di questo incremento demografico è data dalle necessità umane che hanno superato sempre più le capacità di supporto degli ecosistemi.
	32) Individuare tra le alternative proposte quale delle seguenti opzioni è sinonimo di "lontanamente".	a) Meticolosamente.	b) Anticipatamente.	c) Esattamente.	d) Confusamente.
	33) Indicare tra le alternative proposte quale delle seguenti opzioni è sinonimo di "alleggiare".	a) Aprire.	b) Cadere.	c) Volare.	d) Spirare.
	34) Indicare tra le alternative proposte quale delle seguenti opzioni è sinonimo di "albeggiare".	a) Tramontare.	b) Aggiornare.	c) Morire.	d) Decadere.










QUESTIONARIO TIPO 1

	35) Completare con l'opzione adeguata la seguente frase: "Inutile fare congetture e ... su questioni irrisolvibili".	a) Dissipare.	b) Redimere.	c) Copulare.	d) Almanaccare.
	36) Quale termine è il più adatto per indicare un "uomo piccolo di statura, che si rende ridicolo per l'atteggiamento saccente"?	a) Salapuzio.	b) Compunto.	c) Pitocco.	d) Smargiasso.
	37) Il termine spagnolo "tapas" entrato nel nostro vocabolario indica:	a) Vivace danza popolare.	b) Luogo designato per una tappa che permette di riposare.	c) Tecnica chitarristica che consiste nel percuotere le corde.	d) Stuzzichini serviti con l'aperitivo.
	38) Gli aggettivi numerali:	a) Cardinali rappresentano l'ordine di successione di una serie numerica.	b) Ordinali indicano una quantità precisa.	c) Si distinguono in cardinali (secondo), in ordinali (tre), moltiplicativi (doppio).	d) Esprimono l'idea di numero.
	39) Indicare l'esempio in cui l'aggettivo qualificativo è usato in funzione di avverbio:	a) Ho tanti buoni propositi.	b) Luca guida piano.	c) Ho letto articoli interessanti.	d) Quel quadro è meraviglioso.
	40) "Ogni lasciata è persa" contiene:	a) Un aggettivo indefinito.	b) Un aggettivo dimostrativo.	c) Un aggettivo possessivo.	d) Un aggettivo numerale.
	41) Quale delle seguenti frasi presenta un verbo impersonale?	a) La barca ondeggiava con una tranquillità disarmante.	b) Con questo clima è molto facile prendere un raffreddore.	c) Quando il falegname accendeva la motosega non si sentiva più niente.	d) Erano appena le cinque di mattina quando suonò il campanello.
	42) Che tipo di preposizione è presente nella frase "ti aspetteremo nell'atrio, prenditi i tuoi tempi".	a) Preposizione articolata.	b) Preposizione impropria.	c) Preposizione semplice.	d) Locuzione prepositiva.
	43) Nella frase: "Ieri ho incontrato una vecchia amica dell'asilo al supermercato", "ho incontrato" è:	a) Voce del verbo incontrare, prima coniugazione, modo indicativo, tempo passato prossimo, prima persona plurale.	b) Voce del verbo incontrare, prima coniugazione, modo indicativo, tempo passato prossimo, prima persona singolare.	c) Voce del verbo incontrare, prima coniugazione, modo indicativo, tempo trapassato prossimo, prima persona singolare.	d) Voce del verbo incontrare, prima coniugazione, modo indicativo, tempo trapassato prossimo, prima persona plurale.








QUESTIONARIO TIPO 1

	44) Indicare quale fra le frasi proposte presenta errori ortografici (non si considerino i segni di interpunzione). 1. Domani ci sarà la distribuzione dei giocattoli ai bambini. 2. Giorgio è uno psicologo. 3. Marco ha aggiustato lo steccato. 4. Martina ha intravisto degli scoiattoli nel parco.	a) La frase numero 3.	b) La frase numero 4.	c) La frase numero 1.	d) La frase numero 2.
	45) Individuare la parola ortograficamente corretta.	a) Piacievole.	b) Ecuamente.	c) Sconvolgente.	d) Milialia.
	46) Quel dizionario, Il Cavalier Bettazzi, Fin qui, Tal idea. In quale dei precedenti esempi il troncamento è facoltativo?	a) Tal idea.	b) Il Cavalier Bettazzi.	c) Quel dizionario.	d) Fin qui.
	47) Quale dei seguenti termini non è ortograficamente corretto?	a) Quaderno.	b) Cuore.	c) Innoquo.	d) Innocuo.
	48) Quali tra i seguenti tre termini contiene due errori ortografici?	a) Sugello - Malgrado - Consecuenza	b) Sugello - Malgrado - Consecuenza	c) Suggello - Mal grado - Consecuenza	d) Sugelo - Malgrado - Consecuenza
	49) Indicare quale fra le frasi proposte presenta errori ortografici (non si considerino i segni di interpunzione). 1. Non sono arrivati in orario alla festa a causa di un contrattempo che li ha tenuti bloccati in ufficio. 2. D'inverno in quell'appartamento si muore di freddo. 3. Per l'acquazzone improvviso corremmo affanosamente sotto l'albero per ripararci dalla pioggia.	a) La frase numero 3.	b) Nessuna delle frasi proposte è ortograficamente corretta.	c) La frase numero 1.	d) La frase numero 2.
	50) Nella frase: "La mamma vuole che partiamo prima" è presente:	a) Un complemento predicativo del soggetto.	b) Un complemento oggetto.	c) Un complemento di argomento.	d) Un complemento di tempo.
	51) Quale frase contiene un predicato verbale?	a) I miei genitori sono stati generosi con Luca.	b) La risposta le era parsa quanto mai ambigua.	c) La vendetta è un'arma a doppio taglio.	d) Letizia e Dario si trasferiranno a ottobre in Lombardia.





QUESTIONARIO TIPO 1

	52) Quale tipo di complemento contiene la frase "Il Tevere nasce dal Monte Fumaiolo"?	a) Origine.	b) Mezzo.	c) Moto da luogo.	d) Fine.
	53) Completare con la desinenza appropriata i participi passati in modo da accordarli con l'elemento cui si riferiscono. "Michela e Isabella hanno vissut() insieme per molti anni fino a quando non hanno litigat() in maniera pesante e Michela è tornat() a vivere a casa sua".	a) a; o; o.	b) o; a; a.	c) o; o; a.	d) o; o; o.
	54) Nella frase "Luigi ama mangiare nei ristoranti stellati" Il complemento oggetto è:	a) Stellati.	b) Luigi.	c) Mangiare.	d) Nei ristoranti.
	55) Nella frase: "Martina ha molti amici, tuttavia pochi di loro hanno accettato di andare a cena per il suo compleanno", "di loro" è:	a) Complemento di limitazione.	b) Complemento di colpa.	c) Complemento partitivo.	d) Complemento di compagnia.
	56) Complete the sentence by using one of the options given: "John was caught by the police, but Mary got _____".	a) Of.	b) Away.	c) None of the above.	d) Not.
	57) What's the past perfect tense of the verb "to intend"?	a) Had intended.	b) Intended.	c) Have intended.	d) Intending.
	58) He _____ his favorite song on the radio yesterday.	a) Hearing.	b) Heard.	c) Hears.	d) To hear.
	59) A Malian woman, Halima Cisse, gave birth to nonuplets in Morocco. What remarkable event occurred involving a Malian woman in Morocco?	a) She rescued animals in Morocco.	b) She gave birth to nonuplets.	c) She won a marathon in Morocco.	d) She opened a business in Morocco.
	60) We had a fantastic _____ to Paris and enjoyed all the famous landmarks.	a) Book.	b) Trip.	c) Desk.	d) Cat.




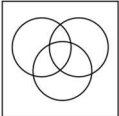
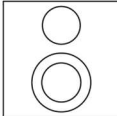
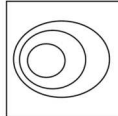
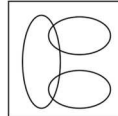

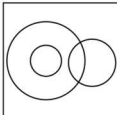
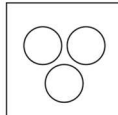
QUESTIONARIO TIPO 1

	61) What's the synonym of "surprised"?	a) Hopeful.	b) Dark.	c) Confusing.	d) Astonished.																									
	62) What's the correct translation into Italian of "We were planning a trip when we heard the news"?	a) Pianifichiamo un viaggio ora.	b) Pianificavamo un viaggio quando sentiamo la notizia.	c) Stavamo pianificando un viaggio quando abbiamo sentito la notizia.	d) Abbiamo pianificato un viaggio ieri.																									
	63) What's the present perfect of the verb "to dance"?	a) Dancer.	b) Dancing.	c) Has/Have danced.	d) Dances.																									
	64) She plays the piano _____, with great passion and skill.	a) Beautifully.	b) Beautifully.	c) Beautifull.	d) Beautiful.																									
	65) What's the simple past of the verb "to eat"?	a) Eats.	b) Ate.	c) Eaten.	d) Eating.																									
	66) In relazione ai dati della tabella n. 35 indicare, in media, gli studenti iscritti al corso di illustrazione. Tabella 35 - Numero di studenti iscritti per l'anno 2019 ai vari corsi della accademia "Lorenzon" divisi per anno di corso.	a) 15,5	b) 18,5	c) 17,5	d) 16,5																									
	<table border="1" style="width: 100%; border-collapse: collapse; text-align: center;"> <thead> <tr> <th></th> <th>1°anno</th> <th>2°anno</th> <th>3°anno</th> <th>4°anno</th> </tr> </thead> <tbody> <tr> <td>Corso di disegno a mano libera</td> <td>15</td> <td>20</td> <td>30</td> <td>25</td> </tr> <tr> <td>Corso di disegno digitale</td> <td>25</td> <td>30</td> <td>15</td> <td>10</td> </tr> <tr> <td>Corso di disegno tecnico</td> <td>10</td> <td>15</td> <td>30</td> <td>20</td> </tr> <tr> <td>Corso di illustrazione</td> <td>25</td> <td>20</td> <td>15</td> <td>10</td> </tr> </tbody> </table>		1°anno	2°anno	3°anno	4°anno	Corso di disegno a mano libera	15	20	30	25	Corso di disegno digitale	25	30	15	10	Corso di disegno tecnico	10	15	30	20	Corso di illustrazione	25	20	15	10				
	1°anno	2°anno	3°anno	4°anno																										
Corso di disegno a mano libera	15	20	30	25																										
Corso di disegno digitale	25	30	15	10																										
Corso di disegno tecnico	10	15	30	20																										
Corso di illustrazione	25	20	15	10																										
	67) In relazione ai dati della tabella n. 34 indicare quante felpe non inglesi sono state vendute nel 2019. Tabella 34 - Totale delle felpe vendute in Regno Unito (in migliaia) e percentuali delle quote relative alle marche inglesi, dal 2017 al 2020.	a) 5300	b) 5220	c) 2550	d) 5225																									
	<table border="1" style="width: 100%; border-collapse: collapse; text-align: center;"> <thead> <tr> <th></th> <th>2017</th> <th>2018</th> <th>2019</th> <th>2020</th> </tr> </thead> <tbody> <tr> <td>Felpe vendute</td> <td>5600</td> <td>5400</td> <td>9500</td> <td>6300</td> </tr> <tr> <td>% felpe inglesi</td> <td>30%</td> <td>35%</td> <td>45%</td> <td>55%</td> </tr> </tbody> </table>		2017	2018	2019	2020	Felpe vendute	5600	5400	9500	6300	% felpe inglesi	30%	35%	45%	55%														
	2017	2018	2019	2020																										
Felpe vendute	5600	5400	9500	6300																										
% felpe inglesi	30%	35%	45%	55%																										

QUESTIONARIO TIPO 1

	<p>68) In relazione ai dati della tabella n. 38 indicare la differenza percentuale del fatturato (espresso in migliaia di €), fra le sedi "Casa Clean" in Germania e in Messico, per i detergenti per piatti.</p> <p>Tabella 38 – Fatturato (espresso in migliaia di €) della multinazionale "Casa Clean", relativo a diverse sedi del mondo.</p> <table border="1" style="width: 100%; border-collapse: collapse; text-align: center;"> <thead> <tr> <th></th> <th>Detergenti per pavimenti</th> <th>Detergenti per piatti</th> <th>Detergenti per vetri</th> <th>Detergenti per parquet</th> </tr> </thead> <tbody> <tr> <td>Germania</td> <td>130</td> <td>125</td> <td>130</td> <td>165</td> </tr> <tr> <td>Messico</td> <td>255</td> <td>350</td> <td>165</td> <td>120</td> </tr> <tr> <td>U.S.A.</td> <td>910</td> <td>920</td> <td>1200</td> <td>1250</td> </tr> <tr> <td>Francia</td> <td>80</td> <td>70</td> <td>95</td> <td>65</td> </tr> </tbody> </table>		Detergenti per pavimenti	Detergenti per piatti	Detergenti per vetri	Detergenti per parquet	Germania	130	125	130	165	Messico	255	350	165	120	U.S.A.	910	920	1200	1250	Francia	80	70	95	65	a) +160%	b) +140%	c) +180%	d) +200%
	Detergenti per pavimenti	Detergenti per piatti	Detergenti per vetri	Detergenti per parquet																										
Germania	130	125	130	165																										
Messico	255	350	165	120																										
U.S.A.	910	920	1200	1250																										
Francia	80	70	95	65																										
	<p>69) Quale coppia di numeri sapendo che la loro differenza è -25 e la loro somma è -7.</p>	a) (-16;9).	b) (-15;8).	c) (-16;10).	d) (-15;9).																									
	<p>70) In relazione ai dati della tabella n. 2 indicare in che percentuale sono variati i fatturati annuali (indicati in migliaia di €) per i viaggi regionali, dal 2018 al 2020.</p> <p>Tabella 2 – Fatturato annuale (indicato in migliaia di €), in base al tipo di viaggio venduto, di una agenzia turistica.</p> <table border="1" style="width: 100%; border-collapse: collapse; text-align: center;"> <thead> <tr> <th></th> <th>2017</th> <th>2018</th> <th>2019</th> <th>2020</th> </tr> </thead> <tbody> <tr> <td>Viaggi regionali</td> <td>40</td> <td>52</td> <td>59</td> <td>48</td> </tr> <tr> <td>Viaggi nazionali</td> <td>20</td> <td>45</td> <td>36</td> <td>45</td> </tr> <tr> <td>Viaggi esteri</td> <td>10</td> <td>11</td> <td>15</td> <td>12</td> </tr> </tbody> </table>		2017	2018	2019	2020	Viaggi regionali	40	52	59	48	Viaggi nazionali	20	45	36	45	Viaggi esteri	10	11	15	12	a) Circa -8%	b) Circa -4%	c) Circa -24%	d) Circa -16%					
	2017	2018	2019	2020																										
Viaggi regionali	40	52	59	48																										
Viaggi nazionali	20	45	36	45																										
Viaggi esteri	10	11	15	12																										
	<p>71) In relazione ai dati della tabella n. 11 indicare la differenza percentuale del prezzo fra la matrimoniale Economica e la Stanza matrimoniale Ordinaria.</p> <p>Tabella 11 – Tariffe di un hotel (indicato in €/giornata) per diverse stanze.</p> <table border="1" style="width: 100%; border-collapse: collapse; text-align: center;"> <thead> <tr> <th></th> <th>Economica</th> <th>Ordinaria</th> <th>Lusso</th> <th>Extra-lusso</th> </tr> </thead> <tbody> <tr> <td>Stanza singola</td> <td>30 €</td> <td>45 €</td> <td>60 €</td> <td>75 €</td> </tr> <tr> <td>Stanza matrimoniale</td> <td>50 €</td> <td>65 €</td> <td>80 €</td> <td>100 €</td> </tr> <tr> <td>Stanza tripla</td> <td>60 €</td> <td>75 €</td> <td>85 €</td> <td>120 €</td> </tr> <tr> <td>Stanza luna di miele</td> <td>120 €</td> <td>150 €</td> <td>190 €</td> <td>260 €</td> </tr> </tbody> </table>		Economica	Ordinaria	Lusso	Extra-lusso	Stanza singola	30 €	45 €	60 €	75 €	Stanza matrimoniale	50 €	65 €	80 €	100 €	Stanza tripla	60 €	75 €	85 €	120 €	Stanza luna di miele	120 €	150 €	190 €	260 €	a) +30%	b) +15%	c) +35%	d) +45%
	Economica	Ordinaria	Lusso	Extra-lusso																										
Stanza singola	30 €	45 €	60 €	75 €																										
Stanza matrimoniale	50 €	65 €	80 €	100 €																										
Stanza tripla	60 €	75 €	85 €	120 €																										
Stanza luna di miele	120 €	150 €	190 €	260 €																										

QUESTIONARIO TIPO 1

	<p>72) In relazione ai dati della tabella n. 24 ipotizzando un incremento delle vendite di riviste di sport, nel mese di agosto, del +11,11% rispetto al mese di luglio, indicare il numero di copie di riviste di sport vendute.</p> <p>Tabella 24 – Riviste vendute da un'edicola in diversi mesi del 2019.</p> <table border="1" style="width: 100%; border-collapse: collapse; text-align: center;"> <thead> <tr> <th></th> <th>Aprile</th> <th>Maggio</th> <th>Giugno</th> <th>Luglio</th> </tr> </thead> <tbody> <tr> <td>Gossip</td> <td>34</td> <td>25</td> <td>49</td> <td>23</td> </tr> <tr> <td>Sport</td> <td>54</td> <td>59</td> <td>41</td> <td>27</td> </tr> <tr> <td>TV</td> <td>10</td> <td>18</td> <td>16</td> <td>28</td> </tr> <tr> <td>Fumetti</td> <td>48</td> <td>56</td> <td>37</td> <td>45</td> </tr> </tbody> </table>		Aprile	Maggio	Giugno	Luglio	Gossip	34	25	49	23	Sport	54	59	41	27	TV	10	18	16	28	Fumetti	48	56	37	45	a) 20	b) 30	c) 22	d) 25
	Aprile	Maggio	Giugno	Luglio																										
Gossip	34	25	49	23																										
Sport	54	59	41	27																										
TV	10	18	16	28																										
Fumetti	48	56	37	45																										
	<p>73) In relazione ai dati della tabella n. 1 indicare in che percentuale sono variati, nel 2019, i ricoveri per Ustioni rispetto a quelli per Altre cause.</p> <p>Tabella 1 – Numero di ricoveri di una clinica privata, in base al caso, in diversi anni:</p> <table border="1" style="width: 100%; border-collapse: collapse; text-align: center;"> <thead> <tr> <th></th> <th>2017</th> <th>2018</th> <th>2019</th> <th>2020</th> </tr> </thead> <tbody> <tr> <td>Ustioni</td> <td>12</td> <td>15</td> <td>22</td> <td>8</td> </tr> <tr> <td>Infarti</td> <td>5</td> <td>11</td> <td>8</td> <td>3</td> </tr> <tr> <td>Altre cause</td> <td>83</td> <td>74</td> <td>70</td> <td>89</td> </tr> </tbody> </table>		2017	2018	2019	2020	Ustioni	12	15	22	8	Infarti	5	11	8	3	Altre cause	83	74	70	89	a) Circa +200%	b) Circa +28%	c) Circa +68%	d) Circa +218%					
	2017	2018	2019	2020																										
Ustioni	12	15	22	8																										
Infarti	5	11	8	3																										
Altre cause	83	74	70	89																										
	<p>74) Individuare quale diagramma, tra quelli indicati nell'immagine, soddisfa la relazione insiemistica tra i seguenti termini relativamente alla loro definizione: Modelli, persone francesi, riviste</p> <div style="display: flex; flex-wrap: wrap; justify-content: space-around;"> <div style="text-align: center; margin: 5px;">  <small>Diagramma 1</small> </div> <div style="text-align: center; margin: 5px;">  <small>Diagramma 2</small> </div> <div style="text-align: center; margin: 5px;">  <small>Diagramma 3</small> </div> <div style="text-align: center; margin: 5px;">  <small>Diagramma 4</small> </div> <div style="text-align: center; margin: 5px;">  <small>Diagramma 5</small> </div> <div style="text-align: center; margin: 5px;">  <small>Diagramma 6</small> </div> <div style="text-align: center; margin: 5px;">  <small>Diagramma 7</small> </div> </div>	a) Diagramma 4	b) Diagramma 6	c) Diagramma 2	d) Diagramma 5																									

QUESTIONARIO TIPO 1



75) Osservando l'immagine 18, tra le ventuno lettere dell'alfabeto, quali mancano dal tabellone del presentatore?

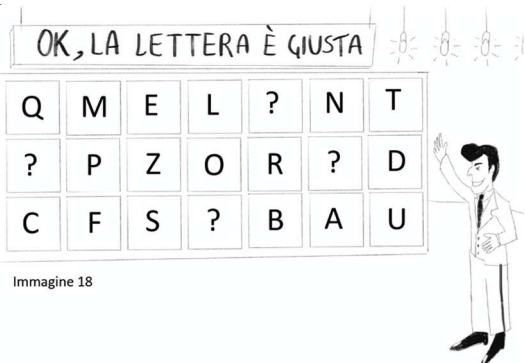


Immagine 18































































a) G; I; V; H

b) V; E; O; Q


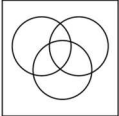
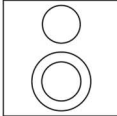
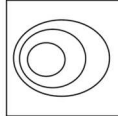
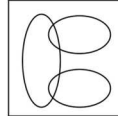
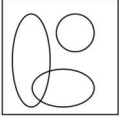
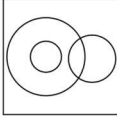
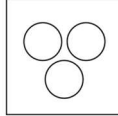


c) I; G; L; H

d) G; R; A; H


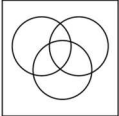
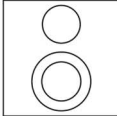
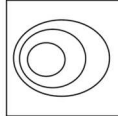
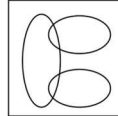
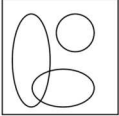
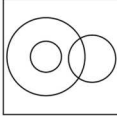
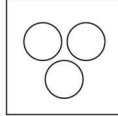




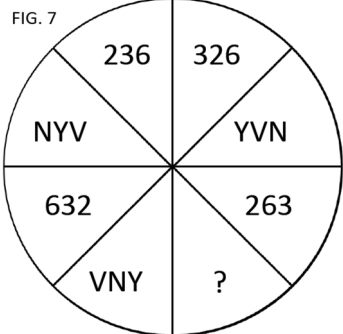
QUESTIONARIO TIPO 1

	<p>76) Quale delle figure proposte completa la serie?</p> <div style="display: flex; flex-direction: column; align-items: center;"> <div style="display: flex; justify-content: space-around; width: 100%;"> <div style="border: 1px solid black; padding: 2px;"></div> <div style="border: 1px solid black; padding: 2px;"></div> <div style="border: 1px solid black; padding: 2px;"></div> <div style="border: 1px solid black; padding: 2px;"></div> <div style="border: 1px solid black; padding: 2px;"></div> </div> <div style="display: flex; justify-content: space-around; width: 100%; margin-top: 5px;"> <div style="border: 1px solid black; padding: 2px;"></div> <div style="border: 1px solid black; padding: 2px;"></div> <div style="border: 1px solid black; padding: 2px;"></div> <div style="border: 1px solid black; padding: 2px;"></div> <div style="border: 1px solid black; padding: 2px;"></div> </div> <div style="display: flex; justify-content: space-around; width: 100%; margin-top: 5px;"> <div style="border: 1px solid black; padding: 2px;"></div> <div style="border: 1px solid black; padding: 2px;"></div> <div style="border: 1px solid black; padding: 2px;"></div> <div style="border: 1px solid black; padding: 2px;"></div> <div style="border: 1px solid black; padding: 2px;"></div> </div> <div style="display: flex; justify-content: space-around; width: 100%; margin-top: 5px;"> <div style="border: 1px solid black; padding: 2px; width: 20px; height: 20px; text-align: center;">?</div> <div style="border: 1px solid black; padding: 2px; width: 20px; height: 20px; text-align: center;">?</div> <div style="border: 1px solid black; padding: 2px; width: 20px; height: 20px; text-align: center;">?</div> <div style="border: 1px solid black; padding: 2px; width: 20px; height: 20px; text-align: center;">?</div> <div style="border: 1px solid black; padding: 2px; width: 20px; height: 20px; text-align: center;">?</div> </div> <div style="margin-top: 10px;"> <p>A     </p> <p>B     </p> <p>C     </p> <p>D     </p> </div> </div>	<p>a) La figura indicata con la lettera D.</p>	<p>b) La figura indicata con la lettera B.</p>	<p>c) La figura indicata con la lettera A.</p>	<p>d) La figura indicata con la lettera C.</p>
	<p>77) PKLUQAZ sta a 4512789 come AQPZUKL sta a</p>	<p>a) 1489572</p>	<p>b) 1458297</p>	<p>c) 8749215</p>	<p>d) 8749251</p>
	<p>78)</p> <div style="display: flex; justify-content: space-around; align-items: center; margin-top: 10px;"> <div style="border: 1px solid black; padding: 5px; text-align: center;">     <p style="font-size: small;">STA A</p> </div> <div style="text-align: center;">COME</div> <div style="border: 1px solid black; padding: 5px; text-align: center;">     <p style="font-size: small;">STA A</p> </div> </div> <div style="display: flex; justify-content: space-around; margin-top: 10px;"> <div style="border: 1px solid black; padding: 5px; text-align: center;">     <p>a)</p> </div> <div style="border: 1px solid black; padding: 5px; text-align: center;">     <p>b)</p> </div> <div style="border: 1px solid black; padding: 5px; text-align: center;">     <p>c)</p> </div> <div style="border: 1px solid black; padding: 5px; text-align: center;">     <p>d)</p> </div> </div>	<p>a)</p>	<p>b)</p>	<p>c)</p>	<p>d)</p>


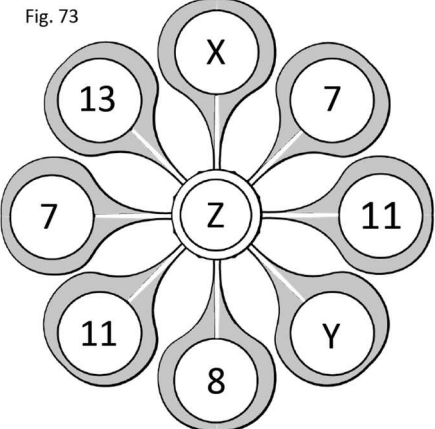

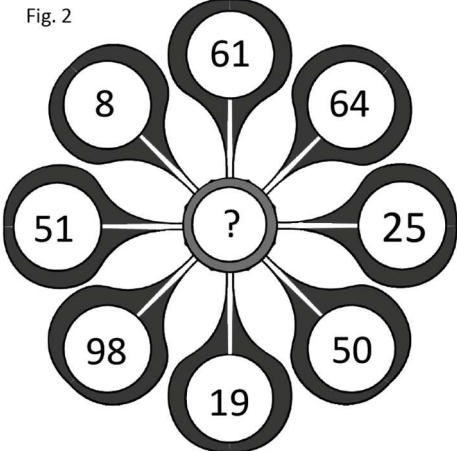
QUESTIONARIO TIPO 1

	<p>79) Quale tra i seguenti gruppi di termini può essere reso graficamente dalla relazione insiemistica rappresentata dal diagramma 7?</p> <div style="display: flex; flex-wrap: wrap; justify-content: space-around;"> <div style="text-align: center;"> Diagramma 1</div> <div style="text-align: center;"> Diagramma 2</div> <div style="text-align: center;"> Diagramma 3</div> <div style="text-align: center;"> Diagramma 4</div> <div style="text-align: center;"> Diagramma 5</div> <div style="text-align: center;"> Diagramma 6</div> <div style="text-align: center;"> Diagramma 7</div> </div>	<p>a) Penne, matite, gomme</p>	<p>b) Cittadini di Palermo, possessori di patente A, possessori di una motocicletta</p>	<p>c) Cantanti americani, cantanti jazz, violini</p>	<p>d) Mammiferi, pastori tedeschi, cani</p>
	<p>80) PKLUQAZ sta a 4512789 come UPQAKLZ sta a</p>	<p>a) 2478591</p>	<p>b) 8745129</p>	<p>c) 2478519</p>	<p>d) 1489572</p>
	<p>81) In relazione alla figura 5 quale delle seguenti affermazioni è corretta?</p> <p style="text-align: center;">Figura 5</p> <div style="border: 1px solid black; padding: 10px; text-align: center;"> <p>D E F S</p> <p>P A R I</p> <p>L B Z</p> <p>T C Q H G</p> </div>	<p>a) La G è a destra della T e sopra la S</p>	<p>b) La E è sotto la A e a sinistra della F</p>	<p>c) La B è sopra la S e a destra della L</p>	<p>d) La S è sopra la G e a destra della E</p>




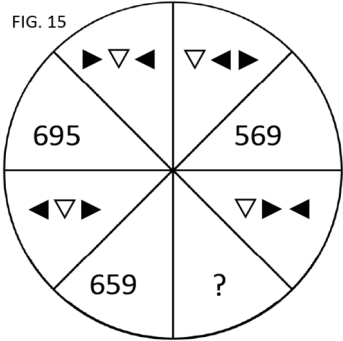
QUESTIONARIO TIPO 1

	<p>82) Quale tra i seguenti gruppi di termini può essere reso graficamente dalla relazione insiemistica rappresentata dal diagramma 2?</p> <div style="display: flex; flex-wrap: wrap; justify-content: space-around;"> <div style="text-align: center;"> Diagramma 1</div> <div style="text-align: center;"> Diagramma 2</div> <div style="text-align: center;"> Diagramma 3</div> <div style="text-align: center;"> Diagramma 4</div> <div style="text-align: center;"> Diagramma 5</div> <div style="text-align: center;"> Diagramma 6</div> <div style="text-align: center;"> Diagramma 7</div> </div>	<p>a) Fagioli, legumi, mele</p>	<p>b) Pitone, ovipari, serpenti</p>	<p>c) Nuvole, aerei, uccelli</p>	<p>d) Numeri da 78 a 88, numeri da 80 a 90, numeri da 100 a 102</p>
	<p>83) In relazione alle figure A e B, quale delle seguenti affermazioni è corretta?</p> <div style="display: flex; justify-content: space-around;"> <div style="text-align: center;"> <p>A</p>  </div> <div style="text-align: center;"> <p>B</p>  </div> </div>	<p>a) Nella figura A ci sono meno quadretti bianchi che neri</p>	<p>b) Nella figura B ci sono più quadretti neri rispetto alla figura A</p>	<p>c) Nella figura A ci sono più quadretti neri rispetto alla figura B</p>	<p>d) Nella figura B ci sono più quadretti bianchi rispetto a quelli neri</p>
	<p>84) In riferimento allo schema n. 7, quale tra le soluzioni proposte è quella corretta?</p> <p>FIG. 7</p> 	<p>a) NVY</p>	<p>b) VYN</p>	<p>c) NYV</p>	<p>d) YNV</p>


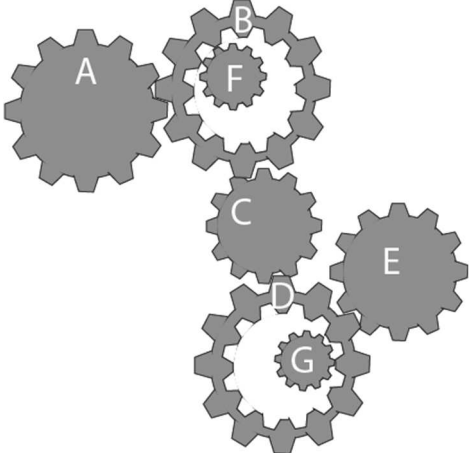

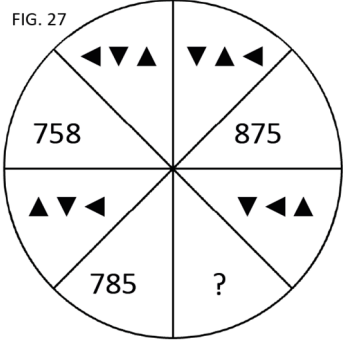

QUESTIONARIO TIPO 1

	<p>85) Rispetto alla figura n. 73, con quale tra le terne proposte devono essere sostituite, rispettivamente, le lettere X, Y e Z affinché la somma dei tre numeri allineati sulle rette passanti per Z dia sempre 30 come risultato?</p> <p>Fig. 73</p> 	<p>a) 11; 5; 11</p>	<p>b) 10; 4; 12</p>	<p>c) 10; 5; 12</p>	<p>d) 9; 5; 13</p>
	<p>86) Rispetto alla figura n. 2, qual è la somma di tutti i numeri presenti negli otto petali?</p> <p>Fig. 2</p> 	<p>a) 376</p>	<p>b) 380</p>	<p>c) 373</p>	<p>d) 278</p>



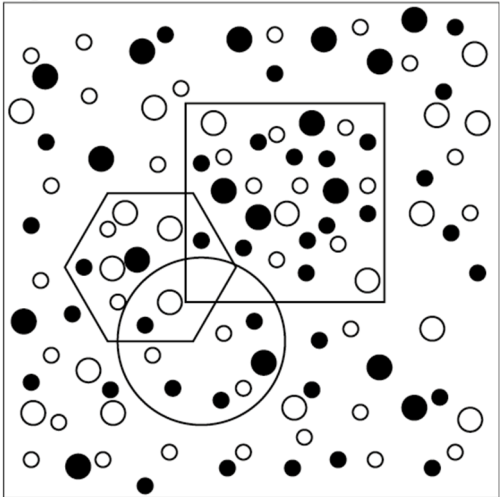
QUESTIONARIO TIPO 1

	<p>87) Quante figure sono presenti nella seguente immagine?</p> 	<p>a) 12</p>	<p>b) 10</p>	<p>c) 11</p>	<p>d) 9</p>
	<p>88) In riferimento allo schema n. 15, quale tra le soluzioni proposte è quella corretta?</p> <p>FIG. 15</p> 	<p>a) 965</p>	<p>b) 956</p>	<p>c) 659</p>	<p>d) 596</p>









QUESTIONARIO TIPO 1

	<p>89) Nel seguente sistema le ruote dentate sono libere di ruotare attorno a un perno fisso, e la ruota dentata A gira in senso orario. Dunque, in relazione alla figura 3 quale delle seguenti affermazioni non è corretta?</p> <p>Figura 3</p> 	<p>a) La ruota F gira nel verso opposto rispetto alla ruota E.</p>	<p>b) La ruota D non gira nello stesso verso della ruota F.</p>	<p>c) La ruota G gira nello stesso verso della ruota F.</p>	<p>d) La ruota B gira in senso antiorario.</p>																														
	<p>90) In riferimento allo schema n. 27, quale tra le soluzioni proposte è quella corretta?</p> <p>FIG. 27</p> 	<p>a) 785</p>	<p>b) 857</p>	<p>c) 587</p>	<p>d) 578</p>																														
	<p>91) Dopo aver osservato la tabella, individuare l'affermazione errata.</p> <table border="1" data-bbox="309 1318 837 1452"> <thead> <tr> <th>Azienda</th> <th>Dipendenti</th> <th>Reparti</th> <th>Clients</th> <th>Fornitori</th> </tr> </thead> <tbody> <tr> <td>CC Spa</td> <td>47</td> <td>55</td> <td>54</td> <td>30</td> </tr> <tr> <td>LG Spa</td> <td>44</td> <td>52</td> <td>36</td> <td>29</td> </tr> <tr> <td>SM Spa</td> <td>23</td> <td>47</td> <td>47</td> <td>43</td> </tr> <tr> <td>NV Spa</td> <td>26</td> <td>36</td> <td>39</td> <td>33</td> </tr> <tr> <td>NH Spa</td> <td>33</td> <td>58</td> <td>26</td> <td>21</td> </tr> </tbody> </table>	Azienda	Dipendenti	Reparti	Clients	Fornitori	CC Spa	47	55	54	30	LG Spa	44	52	36	29	SM Spa	23	47	47	43	NV Spa	26	36	39	33	NH Spa	33	58	26	21	<p>a) Il numero di reparti di NH Spa è maggiore del numero di reparti di NV Spa.</p>	<p>b) Il numero di clienti di SM Spa è minore del numero di clienti di NH Spa.</p>	<p>c) Il numero di dipendenti di NV Spa è minore del numero di dipendenti di LG Spa.</p>	<p>d) Il numero di fornitori di LG Spa è maggiore del numero di fornitori di NH Spa.</p>
Azienda	Dipendenti	Reparti	Clients	Fornitori																															
CC Spa	47	55	54	30																															
LG Spa	44	52	36	29																															
SM Spa	23	47	47	43																															
NV Spa	26	36	39	33																															
NH Spa	33	58	26	21																															





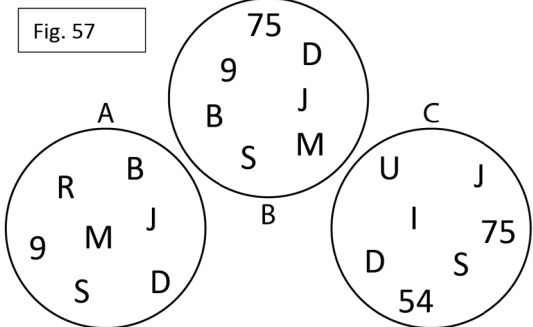
QUESTIONARIO TIPO 1

	<p>92) Dispari - Pari - Pari - Dispari. Quale stringa rispetta i citati criteri?</p>	<p>a) 92875382564756277689.</p>	<p>b) 76675442546776273887.</p>	<p>c) 38451821924996635625.</p>	<p>d) 52691925588172817823.</p>
	<p>93) Si osservi attentamente la figura 5; quanti pallini sono contenuti dentro l'esagono? Figura 5</p> 	<p>a) 9</p>	<p>b) 11</p>	<p>c) 15</p>	<p>d) 10</p>


QUESTIONARIO TIPO 1

	<p>94) Quale tra le 4 stringhe di simboli proposte contiene, nello stesso ordine, i seguenti 5 simboli?</p> <p>Figura 34</p>  <p>1 </p> <p>2 </p> <p>3 </p> <p>4 </p>	<p>a) Stringa 3</p>	<p>b) Stringa 1</p>	<p>c) Stringa 2</p>	<p>d) Stringa 4</p>
	<p>95) Si osservi attentamente la figura 3; considerando i pallini esterni alle figure geometriche, quanti sono i neri meno i bianchi?</p> <p>Figura 3</p> 	<p>a) 1</p>	<p>b) 2</p>	<p>c) 0</p>	<p>d) 4</p>

QUESTIONARIO TIPO 1

	<p>96) Individuare quale stringa di caratteri, tra quelle proposte, sia identica alla seguente: "aabo1o5iai7pqr8afbbsF71a4aii5g2c84p"</p>	<p>a) aabe1e5iai7pqr8afbbsF71a4aii5q2v84p</p>	<p>b) aabo1o5iai7pqr8afbbsF71a4aii5g2c84p</p>	<p>c) aabe1e5iai7pqr8afbbsF71a4aii5g2c84p</p>	<p>d) aabo1o5iai7pqr8afbbsF71a4aii5q2c84p</p>
	<p>97) Nella seguente operazione, i segni "+" e "-" sono stati invertiti tra loro; tenendo conto di ciò, qual è il risultato corretto dell'operazione? $74 + 16 + 10 - 3 + 15 = ?$</p>	<p>a) 40</p>	<p>b) 36</p>	<p>c) 88</p>	<p>d) 112</p>
	<p>98) Dopo aver osservato attentamente la figura n. 1, indicare quale delle seguenti affermazioni non è corretta:</p> <p style="text-align: center;">Figura 1</p> <div style="border: 1px solid black; padding: 5px; width: fit-content; margin: auto;"> <p>OUQQOOC UOQUQCQU COQQOUQCQ QQOOUOQQ QUQUCQOO OUOQQQUQQ</p> </div>	<p>a) Il numero di C è un terzo del numero di O</p>	<p>b) Il numero di Q è uguale al numero di O più 11</p>	<p>c) Il numero di C è uguale al numero di U meno 5</p>	<p>d) Il numero di U è uguale al numero di O meno 5</p>
	<p>99) Si osservi attentamente la figura n. 57 e si indichi, nello stesso ordine, quanti elementi hanno in comune tra loro gli insiemi A e B, quanti gli insiemi B e C e quanti gli insiemi A e C.</p> <p style="text-align: center;">Fig. 57</p> 	<p>a) 6; 4; 3</p>	<p>b) 6; 3; 4</p>	<p>c) 5; 4; 3</p>	<p>d) 4; 3; 6</p>

QUESTIONARIO TIPO 1

	<p>100)</p>	<p>Dopo aver osservato attentamente la figura n. 5, indicare quale delle seguenti affermazioni è corretta:</p> <p style="font-size: small;">Figura 5</p> <div style="border: 1px solid black; padding: 5px; text-align: center;"> <p>NMMNWWNNM</p> <p>VWNVWNWWW</p> <p>NMVVNWVNW</p> <p>MWVMWVMVM</p> <p>WWNNVVVVW</p> <p>WMMMVWWWVM</p> </div>	<p>a) Il numero di N è uguale al numero di V meno 6</p>	<p>b) Il numero di W è uguale al numero di N più 7</p>	<p>c) Il numero di V è uguale al numero di N più 1</p>	<p>d) Il numero di M è uguale al numero di N più 2</p>
--	--------------------	---	--	---	---	---

QUESTIONARIO TIPO 1

